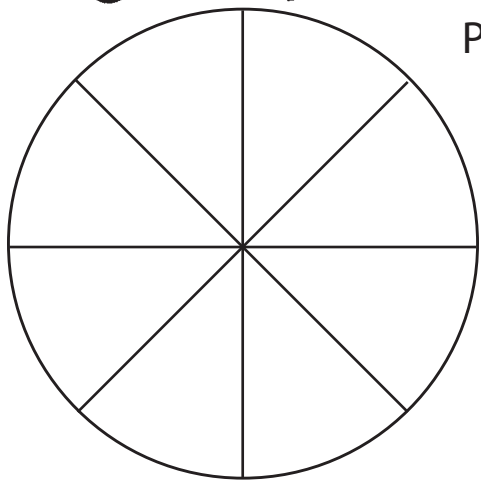


UN BUEN MOMENTO

Pastel de Palomitas



_____ = _____

_____ = _____


_____ = _____

Queso

Caramelo

Naturales

¿Qué sabor de palomitas te gusta más?




Ahora, toma los resultados de la encuesta y escribe las fracciones en números

Ejemplo: $\frac{5}{8}$ les gustan las palomitas de maíz con queso.

Resuelve los problemas y llena los espacios en blanco para encontrar lo que las palomitas tienen en su interior.

#1 #2 #3 #4 #5 #6

#1	#2	#3	#4
749	260	527	642
- 688	- 195	- 486	- 559



#5	#6
821	460
- 736	- 387

65	85	74	61	84	73	64	83	41
L	D	N	A	H	O	G	I	M

Pista: No utilizaras todas las letras

Problemas sobre palomitas de maíz

1. Cada niño en la clase de Mark se comió 3 tazones de palomitas. Hay 19 niños. ¿Cuántos tazones se comieron en total?

2. Diego y sus 4 amigos se gastaron \$20 pesos en el cine en palomitas. ¿Cuánto gasto cada niño?

3. Anna compro una bolsa de palomitas en el cine, pagó con un billete de \$50. Las palomitas costaron \$27.5 pesos. ¿Cuánto fue el cambio que le regresaron?

4. Cuatro niños compraron una bolsa de palomitas por \$27.5 ¿Cuánto gasto cada niño?